


17/05/00

NOMBRE

3º B N° 36



Comienza a contestar en el mismo examen.
Dí todo lo que sepas de las cuestiones. Por favor, separad las respuestas claramente.

- 1) Glóbulos rojos. Grupos sanguíneos.
- 2) Haz un dibujo del aparato digestivo. Nombra sus diferentes partes.
- 3) Estómago: regiones, glándulas, digestión.
- 4) Ovogénesis.
- 5) Aparato reproductor masculino.

1.- Globulos Rojos

Son las encargados de transportar el oxígeno en la sangre.

Le dan a la sangre el color rojo.

Forman el 40 % de la sangre.

En ellos están las proteínas.

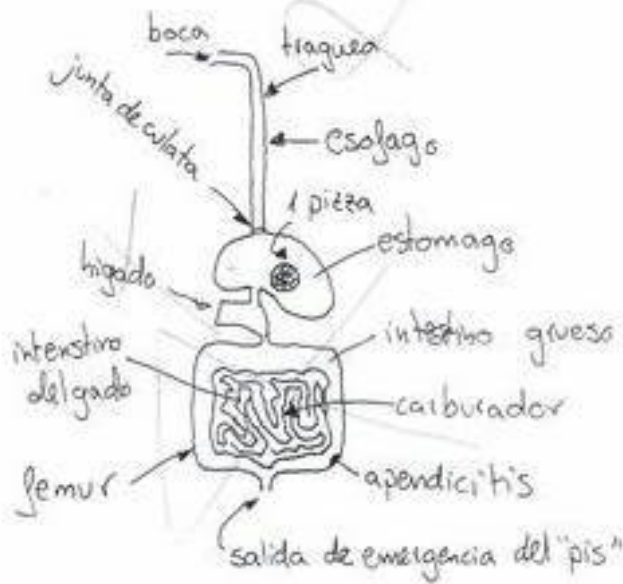
También llamados globulos comunistas.

En ciertos animales como las ranas, son de color verde debido

a la ciclopentanyna-glicida y produce la clorofila, esta se

filtra y provoca que la rana cambie al color verde.

② Aparato Digestivo; hay 2 tipos $\left\{ \begin{array}{l} \text{el de las mujeres} \\ \text{el de los hombres} \end{array} \right.$



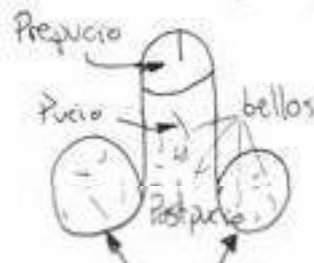
⑤ Aparato Reproductor Masculino

Formado por 2 elementos

* Testículos (son 2). Son los encargados de crear los espermatozoides. Suelen estar a una temperatura de 38° . Tamaño variado según cada uno. Media: 30 cms

* Pene: es un músculo encargado de penetrar en la vagina de la mujer y por el cual salen los espermatozoides. Está formado por el prepucio y el glande. (El prepucio, a su vez está dividido $\left\{ \begin{array}{l} \text{puccio} \\ \text{pospuccio} \end{array} \right.$)
Media: 30 cms. ~~Es~~ Esta es la europea, la española está por encima $\left\{ \begin{array}{l} \text{media} \\ \text{y la mía ni te cuento} \end{array} \right.$

Aunq usted no lo pida, le voy a poner un dibujo xa q vea q entiendo del tema (aunq claro está, entiendo más del femenino)



Escala 1:10 (tamaño erección)

Testículos (perdone pero es que uno me ha salido más grande que otro)